

③1 中高 社会科問題の解答について (注意)

1. 解答はすべて、別紙のマークシートに記入すること。
2. マークシートは、電算処理するので、折り曲げたり、汚したりしないこと。また、マーク欄はもちろん、余白にも不要なことを書かないこと。
3. 記入は、HBまたはBの鉛筆を使って、ていねいに正しく行うこと。(マークシート右上の記入方法を参照) 消去は、プラスチック消しゴムで念入りに行うこと。
4. 名前の記入 名前を記入すること。
5. 教科名の記入 教科名に「社会」と記入すること。
6. 受験番号の記入 受験番号欄に5けたの数で記入したのち、それをマークすること。
7. 解答の記入
 - ア. 小問の解答番号は1から46までの通し番号になっており、例えば、20番を 20 のように表示してある。
 - イ. マークシートのマーク欄は、すべて1から0まで10通りあるが、各小問の選択肢は必ずしも10通りあるとは限らないので注意すること。
 - ウ. どの小問も、選択肢には①、②、③……の番号がついている。
 - エ. 各問いに対して一つずつマークすること。

(マークシート記入例)

フリガナ	ユウベクロウ					
名前	神 戸 太 郎	教科名	社会			

数字で記入……

受験番号					小問番号	解答記入欄	小問番号	解答記入欄	小問番号	解答
						1 - 25		26 - 50		51
/	2	3	4	0	1	0 0 0 0 0 0 0 0 0 0	26	0 0 0 0 0 0 0 0 0 0	51	0 0 0 0
0	0	0	0	0	2	0 0 0 0 0 0 0 0 0 0	27	0 0 0 0 0 0 0 0 0 0	52	0 0 0 0
0	0	0	0	0	3	0 0 0 0 0 0 0 0 0 0	28	0 0 0 0 0 0 0 0 0 0	53	0 0 0 0
0	0	0	0	0	4	0 0 0 0 0 0 0 0 0 0	29	0 0 0 0 0 0 0 0 0 0	54	0 0 0 0
0	0	0	0	0	5	0 0 0 0 0 0 0 0 0 0	30	0 0 0 0 0 0 0 0 0 0	55	0 0 0 0
0	0	0	0	0	6	0 0 0 0 0 0 0 0 0 0	31	0 0 0 0 0 0 0 0 0 0	56	0 0 0 0
0	0	0	0	0	7	0 0 0 0 0 0 0 0 0 0	32	0 0 0 0 0 0 0 0 0 0	57	0 0 0 0
0	0	0	0	0	8	0 0 0 0 0 0 0 0 0 0	33	0 0 0 0 0 0 0 0 0 0	58	0 0 0 0
0	0	0	0	0	9	0 0 0 0 0 0 0 0 0 0	34	0 0 0 0 0 0 0 0 0 0	59	0 0 0 0
0	0	0	0	0	10	0 0 0 0 0 0 0 0 0 0	35	0 0 0 0 0 0 0 0 0 0	60	0 0 0 0
0	0	0	0	0	11	0 0 0 0 0 0 0 0 0 0	36	0 0 0 0 0 0 0 0 0 0	61	0 0 0 0

【1】平成30年4月から小学校、特別支援学校小学部、平成31年4月から中学校、特別支援学校中学部で全面实施される「特別の教科 道徳」（道徳科）について、下の問いに答えよ。

(1) 道徳科の授業で、「道徳的価値の理解」について指導する際に、適切でないものを①～⑤から選び、番号で答えよ。

- ① 授業者の意図や工夫による学習を行う。
- ② 特定の価値観を児童生徒に押し付ける指導を行う。
- ③ 道徳的価値は大切であってもなかなか実現することができない人間の弱さについても指導する。
- ④ 道徳的価値を基に、自己を見つめることができるような学習を行う。
- ⑤ 児童生徒自らが様々な視点から物事を理解し、主体的に取り組む学習を行う。

1

(2) 「道徳科の評価」について、適切でないものを①～⑤から選び、番号で答えよ。

- ① 児童生徒の学習状況や道徳性に係る成長の様子を継続的に把握する。
- ② 教師にとっては、指導の目標や計画、指導方法の改善・充実に取り組むための資料となる。
- ③ 児童生徒の指導に生かすために、数値等による評価を行う。
- ④ 児童生徒がいかに成長したかを積極的に受け止めて認め、励ます個人内評価を行う。
- ⑤ 評価に当たっては、道徳科の学習活動に着目し、年間や学期といった一定の時間的なまとまりの中で把握する。

2

(3) 道徳科の評価としての「見取り」について、適切でないものを①～⑤から選び、番号で答えよ。

- ① 教師や他の児童生徒の発言に聞き入ったり、考えを深めようとしていたりしている姿に着目する。
- ② 児童生徒の変容は、学級担任のみで見取る。
- ③ 発言や感想文、質問紙の記述等から見取る。
- ④ 道徳的価値を自分のこととして捉えているか、丁寧に見取る。
- ⑤ 一人一人の学習の困難さに応じた評価につながるよう見取る。

3

【2】 次の各問いに答えよ。

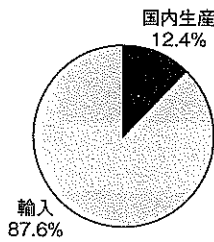
- (1) 右の資料は、わが国の主な農産物の自給率の移り変わりを表したものである。この資料から読み取れることとして適切なものはどれか。①～④から選び、番号で答えよ。

著作権保護の観点により、掲載いたしません。

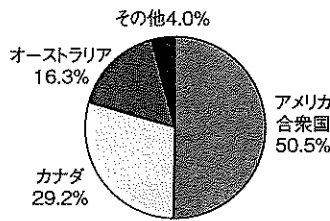
- ① 1960年度と2012年度を比較すると、2012年度には全ての品目において、自給率が上昇している。
- ② 小麦と穀物以外の品目の自給率は、1980年度から2000年度にかけてよりも、1960年度から1980年度にかけての方が、下がり方が大きい。
- ③ 米と小麦を比較すると、全ての年度において、米の自給率が小麦の自給率の8倍を上回っている。
- ④ 2000年度と2012年度を比較すると、2012年度には自給率が向上している品目がある。

(2) 下のグラフは、わが国の農水産物（牛肉、エビ、小麦、マグロ、砂糖）の「輸入と国内生産の割合」とその「輸入先」を表したものである。(A)～(E) に当てはまる農水産物の組合せとして適切なものを①～⑥から選び、番号で答えよ。なお、魚介類（エビ、マグロ）の国内漁獲量はグラフでは「国内生産」と表記している。

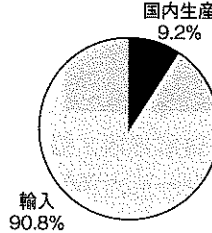
(A)の国内生産と輸入の割合
2014年



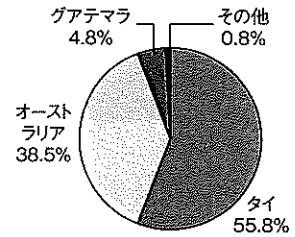
(A)の輸入先
2015年



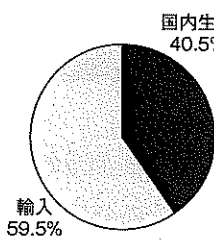
(B)の国内生産と輸入の割合
2014年



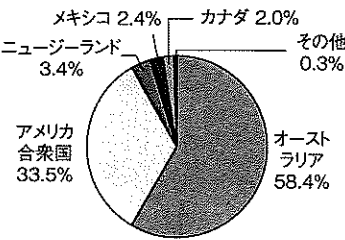
(B)の輸入先
2015年



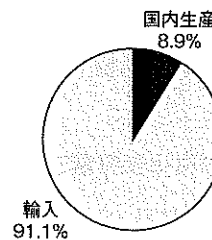
(C)の国内生産と輸入の割合
2014年



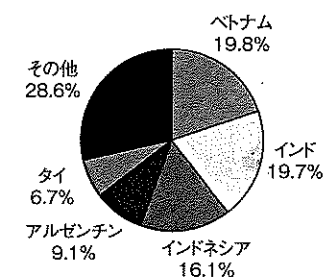
(C)の輸入先
2015年



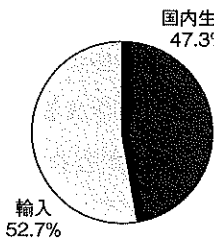
(D)の国内生産と輸入の割合
2014年



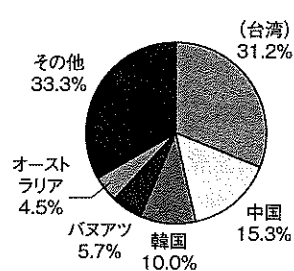
(D)の輸入先
2015年



(E)の国内生産と輸入の割合
2014年



(E)の輸入先
2015年



	①	②	③	④	⑤	⑥
A	牛肉	牛肉	牛肉	小麦	小麦	小麦
B	エビ	マグロ	砂糖	エビ	マグロ	砂糖
C	小麦	小麦	小麦	牛肉	牛肉	牛肉
D	マグロ	エビ	マグロ	マグロ	エビ	エビ
E	砂糖	砂糖	エビ	砂糖	砂糖	マグロ

- (3) 下の (A)～(D) は世界で行われている農業に関する写真や図である。それぞれの写真や図に関する説明文の組合せとして適切なものを①～⑥から選び、番号で答えよ。

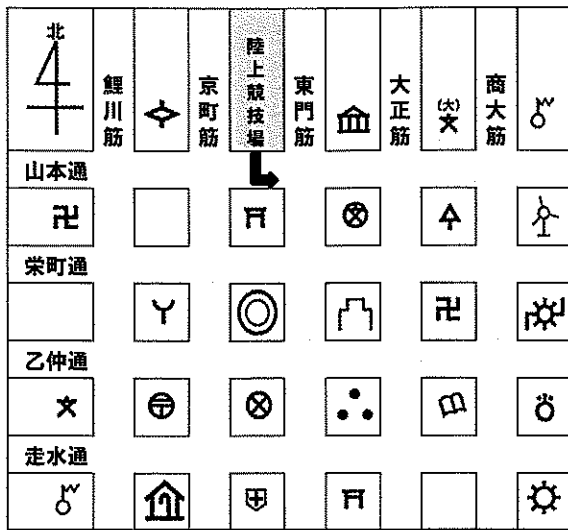
著作権保護の観点により、掲載いたしません。

〈説明文〉

- ア たくさんのスプリンクラーがついた長さ400mのかんがい装置が散水しながら動くので、畑の形が特徴的である。
- イ オリーブや小麦を栽培し、羊ややぎを飼育していたが、現在はかんがい施設が整備され、オレンジの栽培も行われている。
- ウ ヨーロッパ人が植民地で現地の人々を使い、特定の商品作物を大量に生産したのが始まり。
- エ 山岳地帯で見られ、夏季には高地の草地で放牧が行われ、冬季には谷底の畜舎で飼育される。
- オ 小麦やライ麦といった穀物栽培と、豚や牛を中心とした家畜の飼育を組み合わせた農業が行われている。
- カ 水や草を求めて移動し、家畜を飼育し、季節的に大体決まった道筋を移動して生活している。
- キ 森林を伐採したあと、木や草を焼き払ってできた草木灰を肥料として耕地を作り農作物を栽培している。
- ク 施設などを使って、農作物の生育を抑えることで、出荷時期を遅らせている。

	①	②	③	④	⑤	⑥
A	ウ	ウ	カ	カ	キ	キ
B	ク	エ	ウ	キ	カ	カ
C	イ	ク	オ	イ	オ	イ
D	ア	オ	イ	エ	ア	オ

- 【3】 A市で行われたマラソン大会のコース図を見て、次の問いに答えよ。なお、略地図はコース近辺の市街地を表したもので、その中のいくつかの建物は地形図で使われる地図記号で表されている。また、〈説明文〉はランナーが進むコースを示したものである。



〈説明文〉

下記の通過点はランナーが曲がる交差点である。各交差点の名称は、交差する2つの通りの名前を用いて表されている。なお、ランナーはコースの最短距離を走ったこととする。

陸上競技場前→山本大正
→栄町大正→栄町商大→乙仲商大
→乙仲大正→走水大正→走水鯉川
→山本鯉川→陸上競技場

- (1) ランナーが走っている時の市街地の様子を述べた文として適切なものを①～④から選び、番号で答えよ。

- ① 神社北側の道路を走り、交差点を過ぎると道路の北に警察署があった。
- ② 裁判所と小学校の間の道路を走った。
- ③ 市役所前東側の道路を走り、市役所前南側の道路を経て、市役所前西側の道路を走った。
- ④ 郵便局東側の道路を走り、交差点を過ぎ、消防署東側の道路を走った。

7

- (2) 日本社会の変化とともに新しい地図記号が作られている。次の文の()にあてはまる施設を表す地図記号を①～⑤から選び、番号で答えよ。

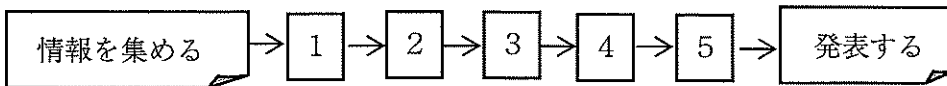
() を表わす地図記号は2006年に作られました。1995年以降、日本では65歳以上の高齢者が年々増えています。そのため、高齢者が介護を受けやすくするための法律が出来ました。2000年以降、全国で() が次々と建てられ、その数は1万3千か所を超えます。そこで、() の地図記号を作ることになり、小中学生にデザインを募集しました。およそ5万7千点もの作品が集まりました。そして選ばれたのが、小学校6年の女の子がデザインしたこの作品。地図記号は、時代とともに新しくなり、変化し続けているのです。



8

【4】 地域調査について、次の問いに答えよ。

(1) 中学校で社会科を教える森先生は地理の授業で地域調査を行う際、生徒たちに七つの手順を示した。その手順を示したのが下の図である。「情報を集める」ことからはじめ、「発表する」までの間に①から⑤の作業があるが、それぞれ下のア～オのいずれかが入る。図中の②と④に入る作業の組合せとして適切なものを①～④から選び、番号で答えよ。



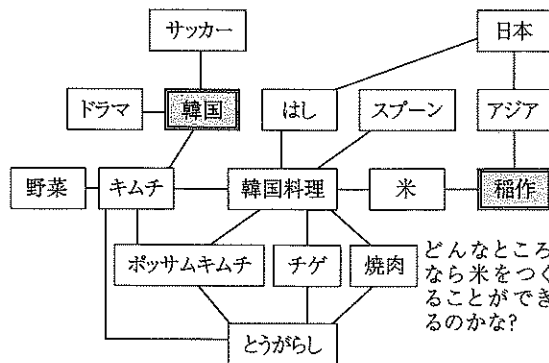
- ア 仮説を立てる イ 調査する ウ 調査テーマを決める
 エ 考察しまとめる オ 調査計画を立てる

	①	②	③	④
②	ウ	ア	イ	オ
④	エ	イ	エ	イ

9

(2) 「調査テーマを決める」段階で使われる手法として下の図の方法がある。この方法の名称を①～④から選び、番号で答えよ。

- ① KJ法
 ② ウェビングマップ
 ③ マトリックス
 ④ カード型リスト



どうしてとうがらしを使った料理が多いのかな?
 韓国の食文化にはどんな特色があるのかな?

10

(3) 「考察しまとめる」段階で、目的に応じて地図でまとめる方法がある。調査結果を目的に応じてまとめる地図に関する記述として適切なものを①～④から選び、番号で答えよ。

- ① 階級区分図：数値を点にして、その密集の度合いで表現する。
- ② 流線図：人やものの移動する方向と量を、矢印の向きと太さで表現する。分布と地域差を表す目的で使用される。
- ③ ドットマップ：数値をいくつかの階級に区分して、階級ごとに異なる色や模様で区分する。比率や割合を示すのに適している。
- ④ 図形表現図：数値を図形の形や大きさを表す。統計データの種類に応じた図形（または図案化したもの）を用いて表現する。数量を示すのに適している。

【5】 次の問いに答えよ。

(1) 本州四国連絡橋と地域の結び付きに関する記述として、適切でないものを①～④から選び、番号で答えよ。

- ① 本州四国連絡橋の児島・坂出ルートの開通により、香川県から岡山県への通勤・通学者は増加したが、岡山県から香川県への通勤・通学者数に変化は見られない。
- ② 本州四国連絡橋の建設は長年の懸案であったが、1969（昭和44）年の新全国総合開発計画で建設が示された。
- ③ 連絡橋の建設は四国では企業の支店や営業所の撤退、地元で買い物をする人の減少、滞在する観光客の減少など、人々の生活に影響をもたらした。
- ④ 小豆島や直島は、瀬戸内の環境を生かした観光業で発展をとげており、連絡橋ができた現在でも船（フェリー）が住民や観光客を運ぶ役割を果たしている。

12

(2) 琵琶湖と環境保全に関する記述として、適切なものを①～④から選び、番号で答えよ。

- ① 滋賀県では琵琶湖の生物多様性の進行を阻止するために、外来魚のリリースを禁止している。2000（平成12）年には健全な琵琶湖を次世代に引き継ぐため「マザーレイク21計画」が定められた。
- ② 琵琶湖に流れ込む河川は約460本あり、周辺地域の排水がすべて流れ込んでいる。一方で流れ出す自然河川は野洲川1本しかなく、湖の水が排出されにくい構造になっている。
- ③ 1970年代以降の赤潮の発生に対し、天然油脂を原料としたせっけんを使おうという運動が滋賀県で起こり、富栄養化の防止に関する条例が制定された。
- ④ 1993（平成5）年に「プルサーマル条約」の登録湿地になり、沿岸の市と県が中心となり環境保全活動の支援や普及活動を行っている。

13

(3) 北陸の郷土料理に関する記述として、適切でないものを①～④から選び、番号で答えよ。

- ① 石川県「かぶら寿司」：冬の日本海でとれるあぶらののったぶりを塩づけにし、かぶに切れ目を入れてはさみ、麴づけにしたなれずしの一種である。
- ② 福井県「さばのへしこ」：さばを塩漬けにした後、ぬかづけにするもの。寒さの厳しい2月から早春にかけて、あぶらののったさばが出回るところから作り、1年以上も寝かせ熟成させる。
- ③ 富山県「ぶり大根」：寒ぶりと大根を煮付けたもの。出世魚であるぶりは、お歳暮として妻の実家から夫の家におくり、義理の息子の出世を願う習慣がある。
- ④ 新潟県「のっぺい汁」：県特産の輪島塗のお椀に盛って、正月やお盆、お祭り、冠婚葬祭でよく見られる料理である。

14

【6】 日本の人口問題に関する下の記述を読み、次の問いに答えよ。

山田先生：来月の研究授業ではa「日本の人口問題」を取り上げようと思うんだ。参考に内閣府が出している「高齢者白書」の2017年度版を読んだけど、内容は衝撃的でしたよ。

田中先生：先日参加した授業研究会でも大学の先生がそれを取り上げていたよ。b高齢者をいかに支えるかという観点からすると、今の生徒たちは相当厳しい時代を生きることになるね。

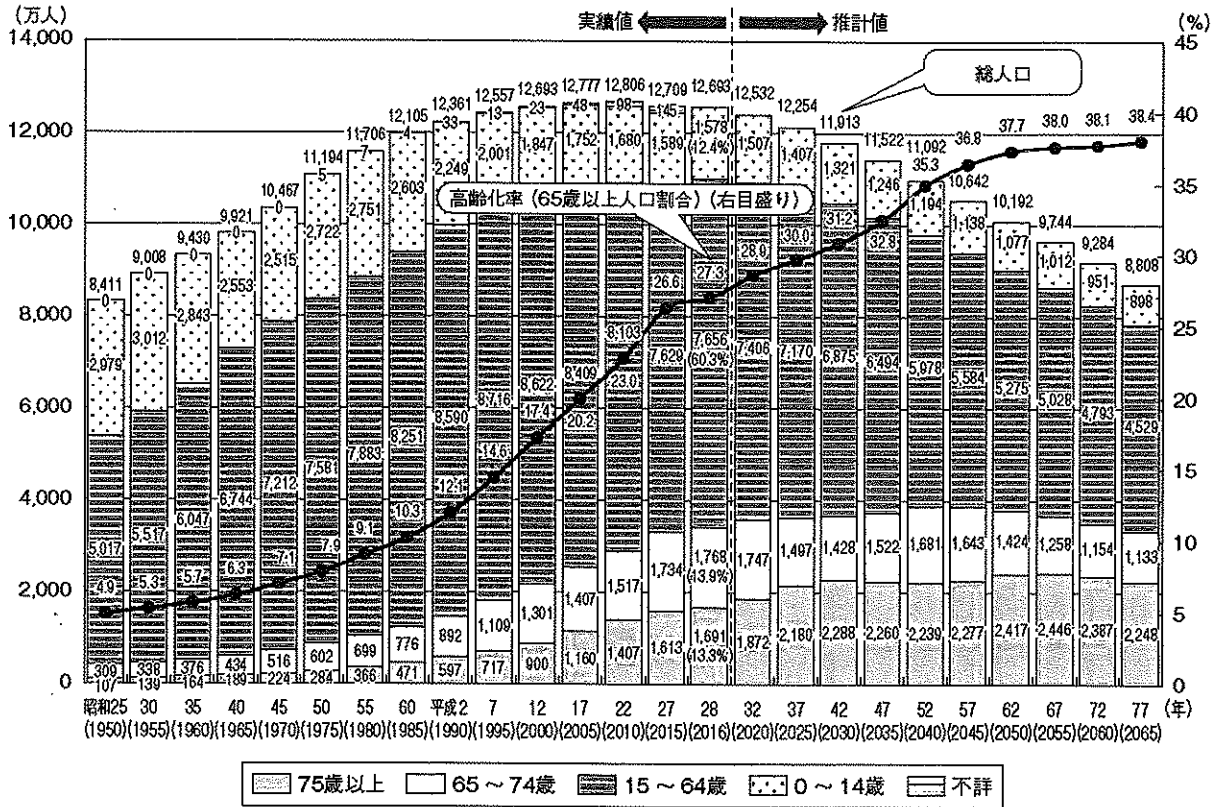
山田先生：そのころには私たちも支えられる立場になっていると思うと複雑な気持ちになるね。

田中先生：次の学習指導要領もそういったことを随分意識したものになっているということだよ。彼らは、c様々な問題に突き当たりながら、逃げないで粘り強く考え抜いて、代案を提示し、討論し、自らの力で社会を創っていくということをやらざるを得なくなる。それでも前向きに生きていける力を彼らにしっかり身につけさせたいね。

(1) 下線部aに関する記述として適切でないものを①～④から選び、番号で答えよ。

- ① 日本は戦後の三度のベビーブームを経て、人口が増加した。
- ② 公衆衛生の拡充や医学の進歩、国民の健康志向などにより、昭和22年には男女とも50歳代前半であった平均寿命は、平成28年簡易生命表によると、男80.98歳、女87.14歳となっている。
- ③ 日本の高齢化率は、1970年に7%をこえ高齢化社会となり、1994年には14%をこえて高齢社会となった。2007年には21.5%をこえ、超高齢社会となっている。
- ④ 市町村や小地域ごとの高齢化率は格差が大きく中山間地などでは高齢化率が50%をこえ、限界集落も発生している。

(2) 会話文中の下線部bに関して、田中先生がそう考える根拠となった資料（高齢化の推移と将来推計）が、次の資料である。



資料から読み取れることをまとめた次の記述にある波線部d～fについて、正誤の適切な組合せを次の①～⑤から選び、番号で答えよ。

d推計値を見ると、今後、総人口が減少するなかで、高齢化率は上昇する。高齢者人口は、いわゆる「団塊の世代」(昭和22(1947)～24(1949)年に生まれた人)が65歳以上となった平成27(2015)年には3,347万人となり、その後も増加傾向となる。平成54(2042)年に3,935万人でピークを迎え、その後は減少に転じるが、高齢化率は上昇傾向にあると推計される。e平成77(2065)年には高齢化率は38.4%に達し、約2.6人に1人が65歳以上となる。平成77(2065)年には75歳以上人口が総人口の25.5%となり約4人に1人が75歳以上となる。5年前(平成24年)の推計と比較すると、人口減少の速度(2060年推計人口について、今回推計では9,284万人、前回推計では8,674万人)や高齢化の進行度合い(2060年高齢化率の推計について、今回推計では38.1%、前回推計では39.9%)は緩和している。しかし、f平成27(2015)年には、高齢者1人に対して現役世代(15～64歳)2.3人で支えていたが、平成77(2065)年には高齢者1人に対して現役世代1.3人で支える社会が到来すると予想される。

「内閣府 高齢者白書2017年度版」

	①	②	③	④	⑤
d	正	正	正	誤	誤
e	正	正	誤	正	誤
f	正	誤	正	正	誤

16

- (3) 会話文中の下線部cの一つに都市問題がある。我が国の都市の多くが都市型の環境問題や人口減少、少子高齢化などの課題に直面している。その解決のための取組の一つに関する記述のうち、(g)、(h)にあてはまる適切な組合せを下の①～⑥から選び、番号で答えよ。

医療のような基礎的サービスであっても、人口密度の低い地域では過少になる傾向にあり、車で移動のできない高齢者等の交通弱者が日常生活を送るうえでの困難が懸念される。また、効率的な行政の遂行のためには、より高密度の居住による人口密度の上昇が求められている。こうしたことから、今後急速な人口減少・高齢化の進展が見込まれる中で、市町村では、中心部へのより集中した居住と各種機能の集約等により、高齢者等が徒歩で生活できるような (g) の形成が不可欠であると考えられる。

〔内閣府 地域経済2012〕

平成19年度末に策定された (h) 市都市計画マスタープランは、(g) を打ち出したものとして全国的に有名である。(h) 市が目指す『お団子と串の都市構造』とは、串が一定水準以上のサービスレベルの公共交通を意味し、徒歩圏をお団子として喩えており、徒歩生活圏(お団子)を公共交通(串)でつなぐことにより、自動車を使えない市民も、日常生活に必要な機能を楽しむ生活環境の形成を目指そうとするものである。

〔(h) 市が目指す串と団子型 (g) 2013〕

- ① g プライメートシティ h 神戸
 ② g プライメートシティ h 岡山
 ③ g インナーシティ h 大阪
 ④ g インナーシティ h 青森
 ⑤ g コンパクトシティ h 富山
 ⑥ g コンパクトシティ h 横浜

17

【7】 日本の歴史に関する次の問いに答えよ。

(1) 弥生時代に関する記述として、適切なものを①～④から選び、番号で答えよ。

- ① 狩猟には、ナイフ形石器や尖頭器などの石器を棒の先端につけた石槍を用い、ナウマンゾウ、オオツノジカ、ヘラジカなどの大型動物を捕えた。
- ② 狩猟には、弓矢が使用され、落とし穴もさかんに利用され、狩猟のおもな対象は、ニホンシカとイノシシであった。
- ③ 豊かな収穫を祈願し、また、収穫を感謝する祭がとりおこなわれたが、これらの祭には、銅鐸や銅剣・銅矛・銅戈などの青銅製祭器が用いられた。
- ④ 古墳の副葬品には、鉄製武具や武器の占める割合が高くなった。

18

(2) 平安時代末期（院政期）の文化に関する記述として適切でないものを①～④から選び、番号で答えよ。

- ① 後白河上皇がみづから民間の流行歌謡である今様を学んで「梁塵秘抄」を編んだ。
- ② 絵と詞書を織りまぜて、時間の進行を表現する絵巻物が、この時代には大和絵の手法を用いられて発展した。動物を擬人化して描いた「鳥獣戯画」は有名である。
- ③ 浄土教の思想が全国に広がり、奥州藤原氏が建てた平泉の「中尊寺金色堂」は有名である。
- ④ 平等院鳳凰堂の本尊である阿弥陀如来像をつくった仏師定朝は、従来の一木造にかわる寄木造の手法を完成し、仏像の大量需要にこたえた。

19

(3) 室町時代の文化に関する記述として適切なものを①～④から選び、番号で答えよ。

- ① 紀貫之らによって、最初の勅撰和歌集である「古今和歌集」が編集された。
- ② 運慶・湛慶父子や快慶らが、仏像や肖像彫刻を作り出した。
- ③ 能のあいだに、風刺性の強い喜劇である狂言が演じられるようになった。
- ④ 活字印刷術が伝えられ、数種類の書籍が出版された。

20

- (4) 豊臣秀吉の天下統一に向けての出来事に関するア～エの文を古い順に並べたとき、1番目と3番目にあてはまる適切な組合せを①～⑥から選び、番号で答えよ。

- ア 一揆を防止し、農民を農業に専念させるために、刀狩令を出し、農民の武器を没収した。
 イ 水陸交通にめぐまれた石山本願寺の跡に、壮大な大坂城を築き始めた。
 ウ 肥前の名護屋に本陣を築き、15万余りの大軍を朝鮮に派兵した。
 エ 朝廷から関白に任じられ、長宗我部元親をくだして、四国を平定した。

	①	②	③	④	⑤	⑥
1番目	ア	ア	イ	イ	エ	エ
3番目	イ	エ	ア	エ	ア	イ

21

- (5) 江戸時代のアイヌ民族に関する記述として適切でないものを①～④から選び、番号で答えよ。

- ① 大酋長コシャマインを中心に蜂起し、一時は、和人居留地のほとんどを攻め落とした。
 ② 幕府は、東蝦夷地を永久の直轄地とし、居住のアイヌを和人とした。
 ③ シャクシャインの戦いで、アイヌは全面的に松前藩に服従させられた。
 ④ 国後島のアイヌによる蜂起がおこり、鎮圧されたが、幕府はアイヌとロシアの連携の可能性を危惧した。

22

- (6) 天保の改革に関する記述として適切なものを①～④から選び、番号で答えよ。

- ① 江戸に流入した貧民の帰郷を強制する人返しの法を發した。
 ② 町々に町費節約を命じ、節約分の7割を積み立てさせた。
 ③ 仙台藩の医師、工藤平助の意見を取り入れ、最上徳内らを蝦夷地に派遣して、その開発やロシア人との交易の可能性を調査させた。
 ④ 幕領の代官らの不正を徹底的に摘発する一方、検見法を改め、定免法を広く取り入れて、年貢率の引き上げをはかり、年貢の増徴を目指した。

23

(7) 明治時代の出来事に関するア～エの文を時代の古い順に並べたとき、1番目と3番目にあてはまる適切な組合せを①～⑥から選び、番号で答えよ。

ア 埼玉県秩父地方で、困民党を称する約3,000人の農民が急増する負債の減免を求めて蜂起した。

イ 大隈重信は、イギリス流の議院内閣制の早期導入を主張し、立憲改進黨を結成した。

ウ 板垣退助にかわって同じく高知の後藤象二郎が大団結をとらえ、井上馨外相の条約改正の失敗を機に、三大事件建白運動がおこった。

エ 第2回衆議院議員総選挙に際しては、内務大臣品川弥二郎を中心に激しい選挙干渉を行い政府支持者の当選につとめた。

	①	②	③	④	⑤	⑥
1番目	ア	ア	イ	イ	ウ	ウ
3番目	イ	ウ	ア	ウ	ア	イ

24

(8) 大正時代の出来事に関する記述として適切なものを①～④から選び、番号で答えよ。

① 加藤高明外相は、袁世凱政府に対し、山東省のドイツ権益の継承、南満州および東部内蒙古の権益の強化など、いわゆる二十一カ条の要求をおこなった。

② 関東州を統治する関東都督府が旅順におかれ、半官半民の南満州鉄道が大連に設立された。

③ 関東軍は、中央にははからず独断で、満州へ帰還途上の張作霖を奉天郊外で列車ごと爆破して殺害した。

④ 北京郊外の盧溝橋付近で、日中両国軍の衝突事件が発生し、その後、全面戦争へと発展した。

25

(9) 第二次世界大戦後の出来事に関する記述として適切なものを①～④から選び、番号で答えよ。

① 鳩山一郎首相は、みずからモスクワを訪れ、日ソ共同宣言に調印して国交を正常化した。

② 岸信介首相は、「所得倍増」をスローガンに、すでに始まっていた高度成長をさらに促進する経済政策を展開した。

③ 池田勇人首相は、日韓基本条約を結んで、韓国との国交を樹立した。

④ 福田赳夫首相は、訪中して日中共同声明を発表し、日中国交正常化を実現した。

26

【8】 次の問いに答えよ。

(1) 3世紀の出来事に関する記述として適切でないものを①～④から選び、番号で答えよ。

- ① アルダシール1世がパルティアを倒し、ササン朝を建国した。
- ② 魏の曹操が、赤壁の戦いで劉備・孫権の連合軍に大敗した。
- ③ のちに四帝分治制をしいて政治的秩序を回復するディオクレティアヌス帝が即位した。
- ④ 冒頓単于が月氏を破って西域を支配して、東西交易から上がる莫大な税収入を手に入れ、匈奴の全盛期を築いた。

27

(2) フランク王国に関する記述として適切なものを①～④から選び、番号で答えよ。

- ① クローヴィスは、アリウス派キリスト教に改宗することで、ローマ人貴族を支配層に取り込んだ。
- ② カール大帝に教皇レオ3世はローマ皇帝の帝冠を与え、西ローマ帝国の復活を宣言した。
- ③ ピピンはカロリング家の血筋が断絶したのをきっかけに、自分が王位につきメロヴィング朝を創始した。
- ④ カール＝マルテルは、ワールシュタットの戦いでイスラーム軍を撃退し、西方キリスト教世界をまとめた。

28

- (3) 次の[A]～[C]は、ルネサンス期に描かれた作品である。それぞれの作者の組合せとして適切なものを①～⑥から選び、番号で答えよ。

著作権保護の観点により、掲載いたしません。

- | | | | | | | |
|---|-----|---------|-----|-------|-----|--------------|
| ① | [A] | ブリュゲル | [B] | ラファエロ | [C] | ボッティチェリ |
| ② | [A] | ジョット | [B] | ボッカチオ | [C] | モンテーニュ |
| ③ | [A] | ミケランジェロ | [B] | ホルバイン | [C] | レオナルド＝ダ＝ヴィンチ |
| ④ | [A] | ブリュゲル | [B] | ホルバイン | [C] | ボッティチェリ |
| ⑤ | [A] | ジョット | [B] | ラファエロ | [C] | レオナルド＝ダ＝ヴィンチ |
| ⑥ | [A] | ミケランジェロ | [B] | ボッカチオ | [C] | モンテーニュ |

29

- (4) アメリカ独立戦争前後の出来事に関する記述として適切なものを①～④から選び、番号で答えよ。

- ① イギリス人が建設した13の植民地では、ヴァージニアで最初の植民地議会が開設されたように、一定の自治が認められ市民意識の成長が見られた。
- ② ボストン茶会事件後、「代表なくして課税なし」の主張が唱えられたが、イギリス政府はボストン港を閉鎖するなど強硬な態度をとった。
- ③ 武力衝突がレキシントンで起こり独立戦争が始まったのち、トマス＝ペインらが起草した独立宣言がフィラデルフィアで発表された。
- ④ ヨークタウンの戦いに敗れたイギリスは、1783年のパリ条約でアメリカ合衆国の独立を承認し、ミシシッピ川以西の広大な領地をゆずった。

30

- (5) 次のア～エはフランス革命中に起こった出来事である。ア～エを起こった順に並べたものとして適切なものを①～⑥から選び、番号で答えよ。

ア：ルイ16世を処刑する
イ：ジロンド派内閣が成立する
ウ：人権宣言を採択する
エ：テルミドール9日のクーデタが起こる

- ① イ→エ→ア→ウ
- ② イ→ア→エ→ウ
- ③ ウ→イ→エ→ア
- ④ ウ→イ→ア→エ
- ⑤ エ→イ→ウ→ア
- ⑥ エ→ア→イ→ウ

31

- (6) 次の表は中国のおもな税制の移りかわりを示したものである。表中のA～Cにあてはまる語句の組合せとして適切なものを①～⑥から選び、番号で答えよ。

王朝	税制
漢	傭役・租賦
南朝	
北朝	租庸調制 (485～780)
隋・唐	
宋	B (16世紀)
明	
清	C (18世紀)

	①	②	③	④	⑤	⑥
A	一条鞭法	一条鞭法	地丁銀制	地丁銀制	兩税法	兩税法
B	地丁銀制	兩税法	一条鞭法	兩税法	一条鞭法	地丁銀制
C	兩税法	地丁銀制	兩税法	一条鞭法	地丁銀制	一条鞭法

32

(7) 宋の時代に関する記述として適切なものを①～④から選び、番号で答えよ。

- ① 後周の武将、趙匡胤が後周の皇帝からその地位を禅譲されて皇帝になり、臨安を都とした宋を建国した。
- ② 太宗は、節度使に欠員が出るたびに文官を地方長官に任命したり、皇帝の親衛軍を強化したりするなど武断政治による君主独裁制の強化を行った。
- ③ 神宗が政治の根本的改革をはかるために起用した王安石は、青苗法・均輸法などの諸法に見られる、一般に新法と呼ばれる改革を行った。
- ④ 遼（契丹）の攻撃で上皇の欽宗と皇帝の徽宗などが捕らえられた靖康の変が起こったため、皇帝の弟の高宗が江南に逃れて南宋をたてた。

【9】 次の問いに答えよ。

(1) 資源・エネルギー問題に関する記述として適切なものを①～④から選び、番号で答えよ。

- ① 私たちの生活を支えるエネルギー源は時代とともに変化し、1960年代には石油に代わって原子力がエネルギーの主役となるエネルギー革命が起こった。
- ② 第二次世界大戦後、欧米のメジャー（国際石油資本）は、中東での油田探査や石油の採掘、精製、流通などを独占し、石油の価格を高く維持しながら有利な取引をしていた。
- ③ 産油国は、自国で産出する地下資源は自国のものであるという資源ナショナリズムの高まりを背景にOPEC（石油輸出国機構）を結成し、メジャーに対抗した。
- ④ 化石燃料に大きく依存した日本のエネルギー構造は、環境問題にも密接に関連している。クリーン開発メカニズムとは、国家間で温室効果ガスの排出枠の売買を行う仕組みのことで、日本政府は積極的にこれを活用している。

34

(2) 日本国憲法に関する記述として適切なものを①～④から選び、番号で答えよ。

- ① 日本国憲法は、憲法問題調査委員会の起草した憲法改正案（松本案）を、帝国議会が修正して成立した。
- ② 皇位は、世襲のものであって、国会の議決した皇室典範の定めるところにより、これを継承する。
- ③ 天皇の国事行為は、内閣の助言と承認が必要であるが、内閣はその責任を問われない。
- ④ 日本国憲法が保障する基本的人権は、法律の範囲内において、現在及び将来の国民に与えられる。

35

(3) 日本の平和主義と安全保障に関する記述として適切でないものを①～④から選び、番号で答えよ。

- ① 日本国憲法第9条の第1項は、「日本国民は、正義と秩序を基調とする国際平和を誠実に希求し、国権の発動たる戦争と、武力による威嚇又は武力の行使は、国際紛争を解決する手段としては、永久にこれを放棄する」としている。
- ② 1950年、朝鮮戦争が勃発すると、連合国の占領下にあった日本政府は、GHQの指示によって自衛隊を創設し、翌1951年にはアメリカと日米安全保障条約を締結した。
- ③ 憲法制定時に吉田茂首相は第9条について、直接的に自衛権を否定していないが、「第9条第2項において一切の軍備と国の交戦権を否認した結果、自衛権の発動としての戦争も、又交戦権も放棄したもの」と国会で答弁している。
- ④ 長沼ナイキ基地訴訟の第一審判決では、自衛隊は違憲とされたが、第二審は「高度に政治的な問題であり、司法審査になじまない」という統治行為論を理由に第一審を破棄した。その後最高裁は、第二審を支持し、上告が棄却された。

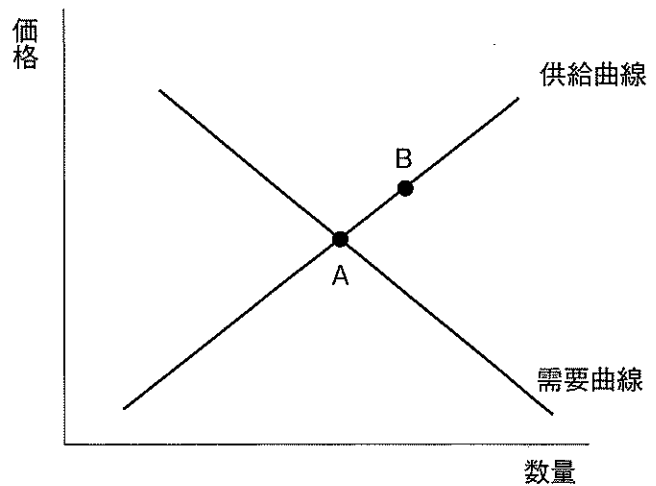
36

(4) 国会に関わる事例として、憲法の規定に照らして適切であるものを①～④から選び、番号で答えよ。

- ① 野党による内閣不信任案が、与党から賛成する者が出たこともあり可決された。内閣総理大臣は、12日後に衆議院を解散した。
- ② 衆議院の本会議において、総議員の2分の1の出席しかなかったため、議事を開くことができなかった。
- ③ 衆議院で可決されたが、参議院で異なった議決がなされた法律案が、衆議院で出席議員の3分の2以上の多数で再び可決されたため、法律となった。
- ④ 参議院の厚生労働委員会で法律の改正案が審議された際、憲法で開催が義務付けられているため公聴会が開かれた。

37

(5) 右の図には、ある財の完全競争市場における当初の需要曲線と供給曲線とが表されている。いま、この市場において、均衡点がAからBに移動したとする。この均衡点の変化を生じさせた要因として適切なものを、①～④から選び、番号で答えよ。



- ① この財に対する消費者の人气が高まった。
- ② この財にかけられる税が引き下げられた。
- ③ この財の生産量が増加した。
- ④ この財を消費する消費者の所得が減少した。

38

(6) 右の資料は、定数6の比例代表制の選挙区における投票結果の例である。ドント方式で当選者を決定すると、6番目の当選者はどの政党から当選するかを①～④から選び、番号で答えよ。

政党名	得票数
A党	80,000
B党	42,000
C党	18,000
D党	12,000

- ① A党
- ② B党
- ③ C党
- ④ D党

39

【10】 次の各問いに答えよ。

(1) 国際連合に関する記述として適切でないものを①～④から選び、番号で答えよ。

- ① 国連憲章の条文に直接もとづかない集団安全保障として、紛争の拡大防止に効果を上げてきたのが国連平和維持活動（PKO）である。日本では1992年に国際連合平和維持活動等に対する協力に関する法律が成立し、同じ年に自衛隊が東ティモールへ派遣された。
- ② 国連平和維持活動（PKO）は、紛争の沈静化や再発防止のために加盟国が自発的に提供した要員を国連が編成して派遣するものである。その活動は、国連平和維持軍、停戦監視団、選挙監視団の3タイプに大別される。
- ③ 安全保障理事会では、冷戦等で常任理事国の対立が生じ、十分な機能を果たせない場合が生じた。このような場合に備えて、総会で1950年に「平和のための結集」決議が採択された。
- ④ 安全保障理事会は、5大国からなる常任理事国と任期2年の10か国の非常任理事国の15か国で構成され、平和と安全の維持に関しては、総会よりも優越的地位を保障されて活動する。

40

(2) 冷戦終結に関する記述として適切なものを①～④から選び、番号で答えよ。

- ① 1985年にエリツィンがソ連共産党書記長として登場し、ソ連の社会経済の停滞を克服するため、ペレストロイカを掲げて改革を試みた。
- ② 1989年にギリシャのクレタ島で米ソ首脳会談が行われ、冷戦終結を宣言した。同じ年にベルリンの壁が崩壊し、翌年には東西ドイツが統一された。
- ③ 1989年後半に東欧で民主化を要求する市民の動きが盛り上がった。東欧各国は共産党の一党独裁を排除して複数政党制を採用し、自由選挙を実施して東欧民主革命が実現した。
- ④ 1991年にソ連では共産党保守派のクーデタが失敗し、ロシアのゴルバチョフ大統領の主導のもとに、共産党一党独裁が解体した。

41

(3) 人権の国際化に関する次の記述の（ア）～（ウ）にあてはまる語句の組合せとして適切なものを①～⑥から選び、番号で答えよ。

国際連合は、1948年に国連人権委員会が作成し、人権をはじめて体系的に規定した国際文書である（ア）を採択した。さらに、その内容を基礎として条約化した（イ）が1966年に採択されて以降、さまざまな人権条約が採択されてきた。

1993年には、世界人権会議が開かれ、女性、子供、少数民族、先住民族、移住労働者などの権利保護を強化する「ウィーン宣言」が採択された。また、1998年には（ウ）を設立するための条約が採択され、2002年に発効した。これによって、ジェノサイド（集団虐殺）、人道に対する罪、戦争犯罪、侵略の罪などにかかわった個人を訴追できるようになった。

	①	②	③	④	⑤	⑥
ア	世界人権宣言	世界人権宣言	世界人権宣言	国際人権宣言	国際人権宣言	国際人権宣言
イ	国際人権規約	世界人権規約	国際人権規約	世界人権規約	国際人権規約	世界人権規約
ウ	国際司法裁判所	国際司法裁判所	国際刑事裁判所	国際司法裁判所	国際刑事裁判所	国際刑事裁判所

42

(4) 第二次世界大戦後の国際経済に関する記述として適切なものを①～④から選び、番号で答えよ。

- ① 戦後の国際経済秩序の柱になったのがIMF（国際通貨基金）と1948年に自由貿易を推進するために設けられたWTO（世界貿易機関）である。
- ② アメリカは戦後の経済復興に積極的に関わり、マーシャルプラン、対日援助、IBRD（国際復興開発銀行）の設立などに主導的な役割を果たした。
- ③ ブレトン・ウッズ体制のもとで、アメリカは国内通貨であるドルと金を、金1オンス35ドルで交換に応じることを各国政府に保証し、他方で、その他の国は自国通貨とドルとの交換比率を一定比率に固定しないで、市場の需給バランスによって決定する変動為替相場制を採用した。
- ④ 第二次世界大戦後、ヨーロッパでは、永続する平和を目的に経済分野から統合がはかられた。1967年には、ECSC（欧州石炭鉄鋼共同体）とEEC（欧州経済共同体）とEURATOM（欧州原子力共同体）が統合して、EU（欧州連合）が発足した。

43

(5) 地域経済統合に関する記述として適切なものを①～④から選び、番号で答えよ。

- ① 1990年代以降、地域経済統合は、EPA（経済連携協定）、FTA（自由貿易協定）を締結する形で急速に進行した。EPAは関税の引き下げや撤廃を目指し、FTAは貿易の自由化のみならず、人や資本、情報の交流など幅広い分野での自由化を対象とする。
- ② 1967年、経済・社会・文化などの交流を目的に、タイ・バングラデシュ・インドネシア・マレーシア・シンガポールの5カ国でASEAN（東南アジア諸国連合）が発足した。
- ③ 北米ではアメリカとカナダとメキシコによるNAFTA（北米自由貿易協定）が1994年に発足し、南米ではブラジル・キューバなど6カ国によるMERCOSUR（南米南部共同市場）が1995年に発足した。
- ④ 日本は、2002年にシンガポールとの間にEPAを結んだ後、メキシコ、フィリピン、マレーシアなどとも協定を結んだ。2010年にインドとの間にEPAが成立した。

【11】 次の問いに答えよ。

(1) 社会契約説に関する記述として適切なものを①～④から選び、番号で答えよ。

- ① ロックは、自然状態を人間が思いのままに自然権を行使する「万人の万人に対する闘争」の状態であると述べた。また、平和を求めるためには、各人は互いに協定を結んで自然権を個人または合議体に譲渡し、譲渡された者は統治者として国家の平和と安全を守り、各人は統治者に無条件に従うべきであると説いた。
- ② ホッブズによれば、人間は本来理性的な存在であり、自然状態は平和であるとする。さらに、各人の自然権の保障をいっそう確実にするために、各人の同意にもとづいて法律の制定およびその実施の権利を国家の代表者である政府に委託すべきであると説いた。
- ③ ルソーは、自然状態を自由・平等と平和が理想的に保たれている状態とみなした。しかし、土地の私有に始まる私有財産制が争いをよびおこし、平和な世界から思いやりの情と正義感を追いはらい、不平等に満ちた社会が生まれたと述べた。「自然に帰れ」という言葉は、文明社会を批判し人間にそなわる善意にもとづいた社会を取り戻そうというルソーの考えをあらわした言葉である。
- ④ パスカルは、共通の利益のみを目指す成員共通の意志を一般意志と表現した。各人が自然権を国家に委ね、一般意志のもとに成立した国家は、この意志に忠実にしたが、それを実現しなければならないと説いた。

- (2) イギリスの哲学者の思想に関する記述の (ア)～(ウ) にあてはまる語句の組合せとして適切なものを①～⑥から選び、番号で答えよ。

イギリスの哲学者 (ア) は、人間はだれでも快樂を求め、苦痛を避けるから、快樂と苦痛の感覚が幸福の基準になると考えた。(ア) はある行為が快樂をもたらす場合は善であり、快樂を妨害し苦痛をもたらす場合は悪と判断する (イ) 主義をとらえた。(ア) は快樂を、強さ・持続する時間・確実性・遠近性・豊富さ・純粹さ・いきわたる範囲の七つの基準にしたがって計算する快樂計算を提案した。(ア) は「最大多数の最大幸福」が法と道德の基本原理になると主張した。

(ア) が快樂の量を重視したのに対して、快樂の質の高さを重んじる質的 (イ) 主義を説いたのが、(ウ) である。人間が求める快樂には量的に計算できないものもあり、計算することのできない精神的快樂をより質の高いものとして (ウ) は尊重した。(ウ) は、自分自身の幸福以外のほかの目的、他者の幸福や人類の改善などに心を傾け、それ自体を理想的目的として生きている人だけが幸福であると考え、イエスの隣人愛の教えにこそ、(イ) 主義道德の理想があると説いた。

	①	②	③	④	⑤	⑥
ア	ミル	ミル	ベーコン	ベーコン	ベンサム	ベンサム
イ	功利	実証	功利	実証	功利	実証
ウ	ベーコン	ベンサム	ミル	ベンサム	ミル	ベーコン